

Тренировочная работа по ИНФОРМАТИКЕ

9 класс

18 сентября 2015 года

Вариант ИН90101

Выполнена: ФИО _____ класс _____

Инструкция по выполнению работы

Работа состоит из двух частей, включающих в себя 20 заданий. Часть 1 содержит 18 заданий с кратким ответом, часть 2 содержит 2 задания, которые необходимо выполнить на компьютере.

На выполнение работы по информатике отводится 2 часа 30 минут (150 минут).

К выполнению заданий части 2 можно перейти, только сдав выполненные задания части 1. Вы можете самостоятельно определять время, которое отводите на выполнение заданий части 1, но рекомендуемое время – 1 час 15 минут (75 минут), и на выполнение заданий части 2 также 1 час 15 минут (75 минут).

При выполнении заданий части 1 **нельзя** пользоваться компьютером, калькулятором, справочной литературой.

Ответы к заданиям 1–6 записываются в виде одной цифры, которая соответствует номеру правильного ответа. Эту цифру запишите в поле ответа в тексте работы.

Ответы к заданиям 7–18 записываются в виде числа, последовательности цифр или букв в поле ответа в тексте работы.

В случае записи неверного ответа на задания части 1 зачеркните его и запишите рядом новый.

Часть 2 содержит 2 задания (19, 20). Результатом выполнения каждого из этих заданий является отдельный файл. Формат файла, его имя и каталог для сохранения Вам сообщат организаторы работы.

При выполнении заданий можно пользоваться черновиком. Записи в черновике не учитываются при оценивании работы.

Баллы, полученные Вами за выполненные задания, суммируются. Постарайтесь выполнить как можно больше заданий и набрать наибольшее количество баллов.

Желаем успеха!

Часть 1

При выполнении заданий 1–6 в поле ответа запишите одну цифру, которая соответствует номеру правильного ответа.

1 В одном из вариантов кодировки Unicode каждый символ кодируется 16 битами. Определите информационный объём сообщения из 512 символов в этой кодировке.

- 1) 512 байт 2) 512 бит 3) 1024 бит 4) 1 Кбайт

Ответ:

2 Для какого из приведённых слов истинно высказывание:
(Первая буква гласная) **И НЕ** (Последняя буква согласная)?

- 1) слива 2) яблоко 3) банан 4) ананас

Ответ:

3 Между населёнными пунктами А, В, С, D, E, F построены дороги, протяжённость которых (в километрах) приведена в таблице.

	A	B	C	D	E	F
A		3	5			15
B	3		1			
C	5	1		1		
D			1		2	6
E				2		2
F	15			6	2	

Определите длину кратчайшего пути между пунктами А и F. Передвигаться можно только по дорогам, указанным в таблице.

- 1) 9 2) 11 3) 13 4) 15

Ответ:

4 Пользователь работал с каталогом **Участники**. После окончания работы с этим каталогом он поднялся на один уровень вверх, затем спустился на один уровень вниз, потом ещё раз спустился на один уровень вниз.

В результате он оказался в каталоге

С:\Конференция\Секции\Информатика.

Укажите возможный полный путь каталога, с которым пользователь начинал работу.

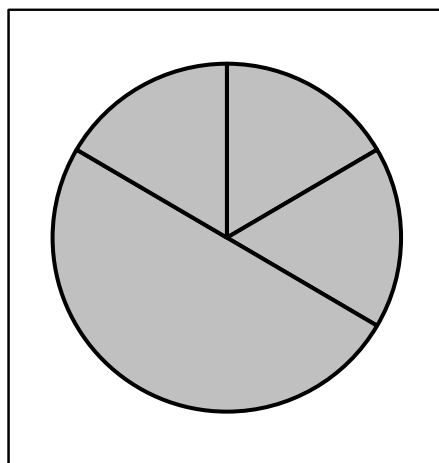
- 1) С:\Конференция\Регионы\Списки\Участники
- 2) С:\Конференция\Регионы\Участники
- 3) С:\Конференция\Участники
- 4) С:\Участники

Ответ:

5 Дан фрагмент электронной таблицы, в первой строке которой записаны числа, а во второй – формулы:

	A	B	C	D
1	4	6	3	2
2		=B1/C1	=C1*D1	=A1-D1

Какая из перечисленных ниже формул должна быть записана в ячейке A2, чтобы построенная после выполнения вычислений круговая диаграмма по значениям диапазона ячеек A2:D2 соответствовала рисунку:



- 1) =A1-1
- 2) =B1-A1
- 3) =A1+C1
- 4) =(B1+D1)/2

Ответ:

6

Исполнитель Чертёжник перемещается на координатной плоскости, оставляя след в виде линии. Чертёжник может выполнять команду **Сместиться на (a, b)** (где a, b – целые числа), перемещающую Чертёжника из точки с координатами (x, y) в точку с координатами $(x + a, y + b)$. Если числа a, b положительные, значение соответствующей координаты увеличивается, если отрицательные – уменьшается.

*Например, если Чертёжник находится в точке с координатами $(1, 1)$, то команда **Сместиться на $(-2, 4)$** переместит Чертёжника в точку $(-1, 5)$.*

Запись

Повтори k раз

Команда1 Команда2

конец

означает, что последовательность команд **Команда1 Команда2** повторится k раз.

Чертёжнику был дан для исполнения следующий алгоритм:

Повтори 3 раз

Сместиться на $(1, 3)$ Сместиться на $(-2, -5)$

конец

Сместиться на $(4, 8)$

Какую команду надо выполнить Чертёжнику, чтобы вернуться в исходную точку, из которой он начал движение?

- | | |
|-----------------------------|----------------------------|
| 1) Сместиться на $(-1, -2)$ | 3) Сместиться на $(1, -2)$ |
| 2) Сместиться на $(-1, 2)$ | 4) Сместиться на $(-2, 1)$ |

Ответ:

Ответом к заданиям 7–18 является число или последовательность символов (букв или цифр), которые следует записать в поле ответа в тексте работы.

7

Ваня шифрует русские слова, записывая вместо каждой буквы её номер в алфавите (без пробелов). Номера букв даны в таблице.

А	1	Й	11	У	21	Э	31
Б	2	К	12	Ф	22	Ю	32
В	3	Л	13	Х	23	Я	33
Г	4	М	14	Ц	24		
Д	5	Н	15	Ч	25		
Е	6	О	16	Ш	26		
Ё	7	П	17	Щ	27		
Ж	8	Р	18	Ъ	28		
З	9	С	19	Ы	29		
И	10	Т	20	Ь	30		

Некоторые шифровки можно расшифровать несколькими способами. Например, 311333 может означать «ВАЛЯ», может – «ЭЛЯ», а может – «ВААВВВ».

Даны четыре шифровки:

232323

654313

210201

203033

Только одна из них расшифровывается единственным способом. Найдите её и расшифруйте. Получившееся слово запишите в качестве ответа.

Ответ: _____.

8

В программе «:=» обозначает оператор присваивания, знаки «+», «-», «*» и «/» – операции сложения, вычитания, умножения и деления. Правила выполнения операций и порядок действий соответствуют правилам арифметики.

Определите значение переменной *a* после выполнения данного алгоритма:

a := 4

b := 3

b := *a* + 2 * *b*

a := *a* * 5 / *b*

В ответе укажите одно целое число – значение переменной *a*.

Ответ: _____.

- 9 Запишите значение переменной s , полученное в результате работы следующей программы. Текст программы приведён на трёх языках программирования.

Алгоритмический язык	Бейсик	Паскаль
<u>алг</u> <u>нач</u> <u>цел</u> s, k $s := 0$ <u>нц для</u> k <u>от</u> 4 <u>до</u> 8 $s := s+7$ <u>кц</u> <u>вывод</u> s <u>кон</u>	DIM k, s AS INTEGER $s = 0$ FOR $k = 4$ TO 8 $s = s+7$ NEXT k PRINT s	Var s, k : integer; Begin $s := 0$; for $k := 4$ to 8 do $s := s+7$; writeln(s); End.

Ответ: _____.

- 10 В таблице Dat хранятся данные о количестве сделанных учениками заданий (Dat[1] заданий сделал первый ученик, Dat[2] – второй и т. д.). Определите, какое число будет напечатано в результате работы следующей программы. Текст программы приведён на трёх языках программирования.

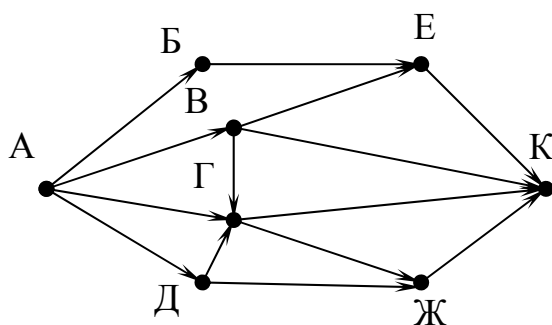
Алгоритмический язык
<u>алг</u> <u>нач</u> <u>целтаб</u> Dat[1:10] <u>цел</u> k, m Dat[1] := 7; Dat[2] := 9 Dat[3] := 10; Dat[4] := 5 Dat[5] := 6; Dat[6] := 7 Dat[7] := 9; Dat[8] := 8 Dat[9] := 6; Dat[10] := 9 $m := 0$ <u>нц для</u> k <u>от</u> 1 <u>до</u> 10 <u>если</u> Dat[k] > 8 <u>то</u> $m := m + \text{Dat}[k]$ <u>все</u> <u>кц</u> <u>вывод</u> m <u>кон</u>

Бейсик	Паскаль
<pre> DIM Dat(10) AS INTEGER DIM k,m AS INTEGER Dat(1) = 7: Dat(2) = 9 Dat(3) = 10: Dat(4) = 5 Dat(5) = 6: Dat(6) = 7 Dat(7) = 9: Dat(8) = 8 Dat(9) = 6: Dat(10) = 9 m = 0 FOR k = 1 TO 10 IF Dat(k) >8 THEN m = m + Dat(k) END IF NEXT k PRINT m </pre>	<pre> Var k, m: integer; Dat: array[1..10] of integer; Begin Dat[1] := 7; Dat[2] := 9; Dat[3] := 10; Dat[4] := 5; Dat[5] := 6; Dat[6] := 7; Dat[7] := 9; Dat[8] := 8; Dat[9] := 6; Dat[10] := 9; m := 0; for k := 1 to 10 do if Dat[k] >8 then begin m := m + Dat[k] end; end; writeln(m) End. </pre>

Ответ: _____.

11

На рисунке изображена схема дорог, связывающих города А, Б, В, Г, Д, Е, Ж и К. По каждой дороге можно двигаться только в одном направлении, указанном стрелкой. Сколько существует различных путей из города А в город К?



Ответ: _____.

- 12** Ниже в табличной форме представлен фрагмент базы данных «Крупнейшие озёра мира».

Название	Площадь (тыс. км ²)	Максимальная глубина (м)	Материк
Байкал	31,5	1620	Евразия
Большое Невольничье	28,6	150	Северная Америка
Гурон	59,6	228	Северная Америка
Гэрднер	7,7	8	Австралия
Женевское	0,5	310	Евразия
Маракайбо	16,3	250	Южная Америка
Мёртвое море	1,0	356	Евразия
Онежское	9,6	110	Евразия
Онтарио	19,5	237	Северная Америка
Рудольф	8,6	73	Африка
Танганьика	32,9	1435	Африка
Чудское	3,5	14	Евразия

Сколько записей в данном фрагменте удовлетворяют условию **(Материк = «Северная Америка») ИЛИ (Максимальная глубина (м) > 200)**? В ответе укажите одно число – искомое количество записей.

Ответ: _____.

- 13** Переведите число 120 из десятичной системы счисления в двоичную систему счисления. Сколько единиц содержит полученное число? В ответе укажите одно число – количество единиц.

Ответ: _____.

- 14** У исполнителя Удвоитель две команды, которым присвоены номера:

1. умножь на 2

2. прибавь 3

Первая из них увеличивает число на экране в 2 раза, вторая – прибавляет к числу 3.

Составьте алгоритм получения из числа **1** числа **38**, содержащий не более пяти команд. В ответе запишите только номера команд.

(Например, 12211 – это алгоритм:

умножь на 2

прибавь 3

прибавь 3

умножь на 2

умножь на 2

который преобразует число 1 в 32).

Если таких алгоритмов более одного, то запишите любой из них.

Ответ: _____.

15 Файл размером 64 Кбайт передаётся через некоторое соединение со скоростью 2048 бит в секунду. Определите размер файла (в Кбайт), который можно передать за то же время через другое соединение со скоростью 512 бит в секунду.

В ответе укажите одно число – размер файла в Кбайт. Единицы измерения писать не нужно.

Ответ: _____.

16 Автомат получает на вход пятизначное десятичное число. По полученному числу строится новое десятичное число по следующим правилам.

1. Вычисляются два числа – сумма первых трёх цифр и сумма последних трёх цифр.

2. Полученные два числа записываются друг за другом в порядке невозрастания (без разделителей).

Пример. Исходное число: 15177. Поразрядные суммы: 7, 15. Результат: 157.

Определите, сколько из приведённых ниже чисел могут получиться в результате работы автомата.

2626 2618 2624 2628 2826 2426 1826 106

В ответе запишите только количество чисел.

Ответ: _____.

17 Доступ к файлу **htm.txt**, находящемуся на сервере **com.ru**, осуществляется по протоколу **http**. Фрагменты адреса файла закодированы буквами от А до Ж. Запишите последовательность этих букв, кодирующую адрес указанного файла в сети Интернет.

А) .ru

Б) /

В) htm

Г) ://

Д) com

Е) .txt

Ж) http

Ответ:

--	--	--	--	--	--	--	--

18 В таблице приведены запросы к поисковому серверу. Для каждого запроса указан его код – буква от А до Г. Расположите коды запросов слева направо в порядке **возрастания** количества страниц, которые нашёл поисковый сервер по каждому запросу. По всем запросам было найдено разное количество страниц.

Для обозначения логической операции «ИЛИ» в запросе используется символ «|», а для логической операции «И» – «&».

Код	Запрос
А	Мороз Солнце День Чудесный
Б	(Мороз & Солнце) День
В	Мороз & Солнце
Г	Мороз & Солнце & День & Чудесный

Ответ: _____.

Часть 2

Задания этой части (19, 20) выполняются на компьютере. Результатом выполнения задания является отдельный файл (для одного задания – один файл). Формат файла, его имя и каталог для сохранения Вам сообщат организаторы работы.

19 В электронную таблицу занесли численность населения городов разных стран. На рисунке приведены первые строки получившейся таблицы.

	А	В	С
1	Город	Численность населения	Страна
2	Асмун	91,40	Египет
3	Винер-Нойштадт	39,94	Австрия
4	Люлебургаз	100,79	Турция
5	Фёклабрук	11,95	Австрия

В столбце А указано название города, в столбце В – численность населения (тыс. чел.), в столбце С – название страны.

Всего в электронную таблицу были занесены данные по 1000 городам. Порядок записей в таблице произвольный.

Выполните задание.

Откройте файл с данной электронной таблицей (расположение файла Вам сообщат организаторы работы). На основании данных, содержащихся в этой таблице, ответьте на два вопроса.

1. Какова суммарная численность населения в приведённых в таблице городах России? Ответ на этот вопрос с точностью до одного знака после запятой (в тыс. чел.) запишите в ячейку F2.
2. Сколько городов среди представленных в таблице имеют население не менее миллиона человек? Ответ на этот вопрос запишите в ячейку F3 таблицы.

Полученную таблицу необходимо сохранить под именем, указанным организаторами работы.

Выберите ОДНО из предложенных ниже заданий: 20.1 или 20.2.

20.1

Исполнитель Робот умеет перемещаться по лабиринту, начерченному на плоскости, разбитой на клетки. Между соседними (по сторонам) клетками может стоять стена, через которую Робот пройти не может.

У Робота есть девять команд. Четыре команды – это команды-приказы:

вверх вниз влево вправо

При выполнении любой из этих команд Робот перемещается на одну клетку соответственно: вверх ↑, вниз ↓, влево ←, вправо →. Если Робот получит команду передвижения сквозь стену, то он разрушится.

Также у Робота есть команда **закрасить**, при которой закрашивается клетка, в которой Робот находится в настоящий момент.

Ещё четыре команды – это команды проверки условий. Эти команды проверяют, свободен ли путь для Робота в каждом из четырёх возможных направлений:

сверху свободно снизу свободно слева свободно справа свободно

Эти команды можно использовать вместе с условием «если», имеющим следующий вид:

если условие то

последовательность команд

все

Здесь *условие* – одна из команд проверки условия.

Последовательность команд – это одна или несколько любых команд-приказов.

Например, для передвижения на одну клетку вправо, если справа нет стенки и закрашивания клетки, можно использовать такой алгоритм:

если справа свободно то

вправо

закрасить**все**

В одном условии можно использовать несколько команд проверки условий, применяя логические связки **и**, **или**, **не**, например:

**если (справа свободно) и (не снизу свободно) то
вправо**

все

Для повторения последовательности команд можно использовать цикл «пока», имеющий следующий вид:

нц пока *условие*

последовательность команд

кц

Например, для движения вправо, пока это возможно, можно использовать следующий алгоритм:

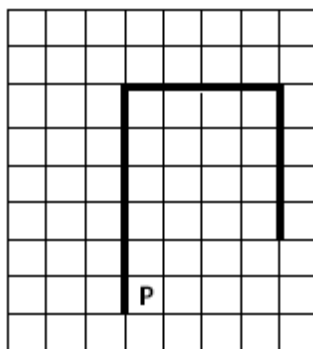
нц пока справа свободно

вправо

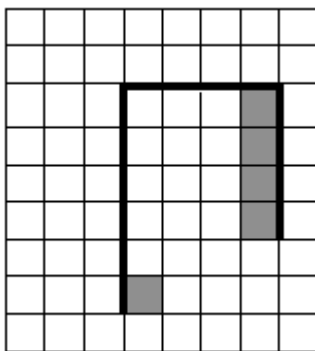
кц**Выполните задание.**

На бесконечном поле имеется вертикальная стена. **Длина стены неизвестна**. От верхнего конца стены вправо отходит горизонтальная стена **также неизвестной** длины. От правого конца этой стены отходит вниз вторая вертикальная стена **неизвестной** длины. Робот находится в клетке, расположенной справа от нижнего края первой вертикальной стены.

На рисунке указан один из возможных способов расположения стен и Робота (Робот обозначен буквой «Р»):



Напишите для Робота алгоритм, закрашивающий клетку, на которой находится Робот первоначально, и клетки, расположенные слева от второй вертикальной стены. Робот должен закрасить только клетки, удовлетворяющие данному условию. Например, для приведённого выше рисунка Робот должен закрасить следующие клетки (см. рисунок):



Конечное расположение Робота может быть произвольным. Алгоритм должен решать задачу для произвольного размера поля и любого допустимого расположения стен внутри прямоугольного поля. При исполнении алгоритма Робот не должен разрушиться.

Алгоритм может быть выполнен в среде формального исполнителя или записан в текстовом редакторе.

Название файла и каталог для сохранения Вам сообщат организаторы работы.

- 20.2** Напишите программу, которая в последовательности натуральных чисел находит среднее арифметическое двузначных чисел или сообщает, что таких чисел нет. Программа получает на вход натуральные числа, количество введённых чисел неизвестно, последовательность заканчивается числом 0 (0 – признак окончания ввода, не является членом последовательности). Количество чисел не превышает 100. Введённые числа не превышают 300. Программа должна вывести среднее арифметическое двузначных чисел или вывести NO, если таких чисел в последовательности нет.

Пример работы программы:

Входные данные	Выходные данные
13 154 56 0	34.5
269 5 0	NO

Тренировочная работа по ИНФОРМАТИКЕ

9 класс

18 сентября 2015 года

Вариант ИН90102

Выполнена: ФИО _____ класс _____

Инструкция по выполнению работы

Работа состоит из двух частей, включающих в себя 20 заданий. Часть 1 содержит 18 заданий с кратким ответом, часть 2 содержит 2 задания, которые необходимо выполнить на компьютере.

На выполнение работы по информатике отводится 2 часа 30 минут (150 минут).

К выполнению заданий части 2 можно перейти, только сдав выполненные задания части 1. Вы можете самостоятельно определять время, которое отводите на выполнение заданий части 1, но рекомендуемое время – 1 час 15 минут (75 минут), и на выполнение заданий части 2 также 1 час 15 минут (75 минут).

При выполнении заданий части 1 **нельзя** пользоваться компьютером, калькулятором, справочной литературой.

Ответы к заданиям 1–6 записываются в виде одной цифры, которая соответствует номеру правильного ответа. Эту цифру запишите в поле ответа в тексте работы.

Ответы к заданиям 7–18 записываются в виде числа, последовательности цифр или букв в поле ответа в тексте работы.

В случае записи неверного ответа на задания части 1 зачеркните его и запишите рядом новый.

Часть 2 содержит 2 задания (19, 20). Результатом выполнения каждого из этих заданий является отдельный файл. Формат файла, его имя и каталог для сохранения Вам сообщат организаторы работы.

При выполнении заданий можно пользоваться черновиком. Записи в черновике не учитываются при оценивании работы.

Баллы, полученные Вами за выполненные задания, суммируются. Постарайтесь выполнить как можно больше заданий и набрать наибольшее количество баллов.

Желаем успеха!

Часть 1

При выполнении заданий 1–6 в поле ответа запишите одну цифру, которая соответствует номеру правильного ответа.

1 В одном из вариантов кодировки Unicode на каждый символ отводится 2 байта. Определите информационный объём слова из 24 символов в этой кодировке.

- 1) 384 бит 2) 192 бит 3) 256 бит 4) 48 бит

Ответ:

2 Для какого из приведённых чисел истинно высказывание:
НЕ (Первая цифра чётная) **И** (Последняя цифра нечётная)?

- 1) 6843 2) 4562 3) 3561 4) 1234

Ответ:

3 Между населёнными пунктами А, В, С, D, E, F построены дороги, протяжённость которых (в километрах) приведена в таблице.

	A	B	C	D	E	F
A		3				
B	3		2			7
C		2			2	
D					1	1
E			2	1		3
F		7		1	3	

Определите кратчайший путь между пунктами А и F (при условии, что передвигаться можно только по построенным дорогам).

- 1) 9 2) 10 3) 11 4) 12

Ответ:

4 В некотором каталоге хранился файл **Хризантема.doc**, имевший полное имя **D:\2013\Осень\Хризантема.doc**. В этом каталоге создали подкаталог **Ноябрь** и файл **Хризантема.doc** переместили в созданный подкаталог. Укажите полное имя этого файла после перемещения.

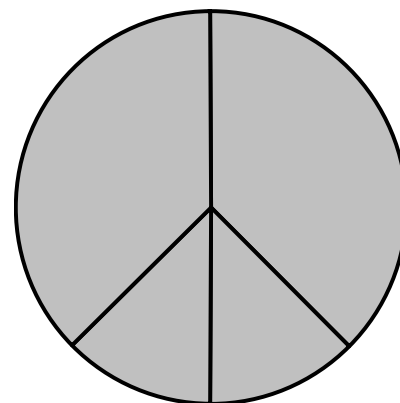
- 1) D:\2013\Осень\Ноябрь\Хризантема.doc
- 2) D:\2013\Осень\Хризантема.doc
- 3) D:\Ноябрь\Хризантема.doc
- 4) D:\2013\Ноябрь\Хризантема.doc

Ответ:

5 Дан фрагмент электронной таблицы, в первой строке которой записаны числа, а во второй – формулы.

	A	B	C	D
1	4		3	2
2	$=(A1+D1)/2$	$=C1-D1$		$=A1-1$

Какая из перечисленных ниже формул должна быть записана в ячейке C2, чтобы построенная после выполнения вычислений круговая диаграмма по значениям диапазона ячеек A2:D2 соответствовала рисунку?



- 1) $=A1-1$
- 2) $=D1+1$
- 3) $=A1-2$
- 4) $=C1-D1$

Ответ:

6

Исполнитель Чертёжник перемещается на координатной плоскости, оставляя след в виде линии. Чертёжник может выполнять команду **Сместиться на (a, b)** (где a, b – целые числа), перемещающую Чертёжника из точки с координатами (x, y) в точку с координатами $(x + a, y + b)$. Если числа a, b положительные, значение соответствующей координаты увеличивается, если отрицательные – уменьшается.

*Например, если Чертёжник находится в точке с координатами $(4, 2)$, то команда **Сместиться на $(2, -3)$** переместит Чертёжника в точку $(6, -1)$.*

Запись

Повтори k раз

Команда1 Команда2 Команда3

конец

означает, что последовательность команд **Команда1 Команда2 Команда3** повторится k раз.

Чертёжнику был дан для исполнения следующий алгоритм:

Повтори 3 раз

Сместиться на $(1, 2)$ Сместиться на $(2, -1)$ Сместиться на $(2, 0)$

конец

Какую команду надо выполнить Чертёжнику, чтобы вернуться в исходную точку, из которой он начал движение?

- | | |
|-----------------------------|------------------------------|
| 1) Сместиться на $(15, 3)$ | 3) Сместиться на $(15, -3)$ |
| 2) Сместиться на $(-15, 3)$ | 4) Сместиться на $(-15, -3)$ |

Ответ:

Ответом к заданиям 7–18 является число или последовательность символов (букв или цифр), которые следует записать в поле ответа в тексте работы.

7

Ваня шифрует русские слова, записывая вместо каждой буквы её номер в алфавите (без пробелов). Номера букв даны в таблице.

А	1	Й	11	У	21	Э	31
Б	2	К	12	Ф	22	Ю	32
В	3	Л	13	Х	23	Я	33
Г	4	М	14	Ц	24		
Д	5	Н	15	Ч	25		
Е	6	О	16	Ш	26		
Ё	7	П	17	Щ	27		
Ж	8	Р	18	Ъ	28		
З	9	С	19	Ы	29		
И	10	Т	20	Ь	30		

Некоторые шифровки можно расшифровать несколькими способами. Например, 311333 может означать «ВАЛЯ», может – «ЭЛЯ», а может – «ВААВВВ».

Даны четыре шифровки:

121212

203105

253010

203033

Только одна из них расшифровывается единственным способом. Найдите её и расшифруйте. Получившееся слово запишите в качестве ответа.

Ответ: _____.

8

В программе «:=» обозначает оператор присваивания, знаки «+», «-», «*» и «/» – соответственно операции сложения, вычитания, умножения и деления. Правила выполнения операций и порядок действий соответствуют правилам арифметики.

Определите значение переменной a после исполнения данного алгоритма.

$a := 20$

$b := a / 4 - 2$

$a := a - b * 3$

В ответе укажите одно число — значение переменной a .

Ответ: _____.

- 9 Запишите значение переменной s , полученное в результате работы следующей программы. Текст программы приведён на трёх языках программирования.

Алгоритмический язык	Бейсик	Паскаль
<pre> алг нач цел s, k s := 0 нц для k от 6 до 10 s := s+10 кц вывод s кон </pre>	<pre> DIM k, s AS INTEGER s = 0 FOR k = 6 TO 10 s = s+10 NEXT k PRINT s </pre>	<pre> Var s,k: integer; Begin s := 0; for k := 6 to 10 do s := s+10; writeln(s); End. </pre>

Ответ: _____.

- 10 В таблице Dat хранятся данные ежедневных измерений температуры воздуха (Dat[1] – температура в понедельник, Dat[2] – во вторник и т. д.). Определите, что будет напечатано в результате выполнения следующего алгоритма, записанного на трёх языках программирования.

Алгоритмический язык	Бейсик
<pre> алг нач целтаб Dat[1:7] цел k, day Dat[1] := 9; Dat[2] := 11 Dat[3] := 10; Dat[4] := 13 Dat[5] := 8; Dat[6] := 5 Dat[7] := 11 day := 0 нц для k от 1 до 7 если Dat[k] <= 10 то day := day+1 все кц вывод day кон </pre>	<pre> DIM Dat(7) AS INTEGER DIM k, day AS INTEGER Dat(1) = 9: Dat(2) = 11 Dat(3) = 10: Dat(4) = 13 Dat(5) = 8: Dat(6) = 5 Dat(7) = 11 day = 0 FOR k = 1 TO 7 IF Dat(k) <= 10 THEN day = day+1 END IF NEXT k PRINT day END </pre>

Паскаль

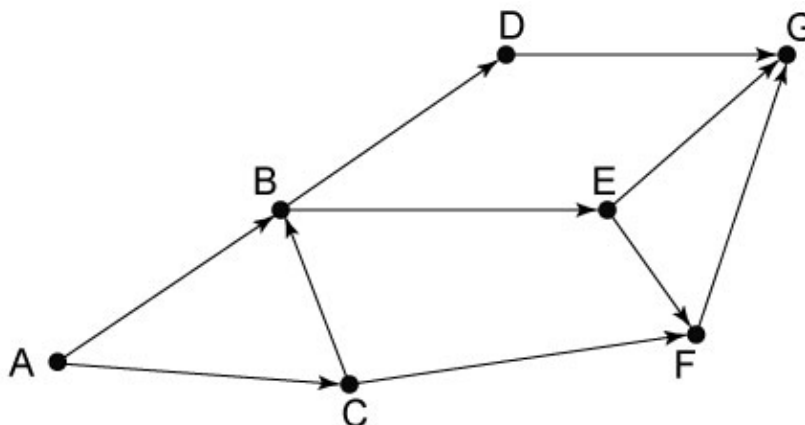
```
var
Dat: array[1..7] of integer;
k, day: integer;
begin
  Dat[1] := 9;  Dat[2] := 11;
  Dat[3] := 10; Dat[4] := 13;
  Dat[5] := 8;  Dat[6] := 5;
  Dat[7] := 11;
  day := 0;
  for k := 1 to 7 do begin
    if Dat[k] <= 10 then
      day := day+1;
    end;
    writeln(day);
  end.
end.
```

Ответ: _____.

11

На рисунке – схема дорог, связывающих города A, B, C, D, E, F, G. По каждой дороге можно двигаться только в одном направлении, указанном стрелкой.

Сколько существует различных путей из города A в город G?



Ответ: _____.

- 12** Ниже в табличной форме представлен фрагмент базы данных о морях Тихого океана:

Название моря	Площадь (тыс. км ²)	Наибольшая глубина (м)
Банда	695	7440
Берингово	2304	4773
Восточно-Китайское	836	2719
Желтое	420	40
Коралловое	4791	9165
Охотское	1590	3372
Тасманово	3335	3285
Южно-Китайское	3447	5560
Японское	978	3669

Сколько записей в данном фрагменте удовлетворяют условию **(Площадь > 1000) И (Наибольшая глубина (м) < 5000)?**

В ответе укажите одно число – искомое количество записей.

Ответ: _____.

- 13** Переведите число 101110 из двоичной системы счисления в десятичную систему счисления. В ответе запишите полученное число.

Ответ: _____.

- 14** У исполнителя Раздвоитель две команды, которым присвоены номера:

1. вычесть 1

2. разделить на 2

Первая из них уменьшает число, записанное на экране, на 1, вторая – делит его на 2.

Составьте алгоритм получения из числа **17** числа **5**, содержащий не более пяти команд. В ответе запишите только номера команд.

(Например: 2212 – это алгоритм:

разделить на 2

разделить на 2

вычесть 1

разделить на 2,

который преобразует число 12 в число 1).

Если таких алгоритмов более одного, запишите любой из них.

Ответ: _____.

15 Файл размером 8 Кбайт передаётся через некоторое соединение со скоростью 2048 бит в секунду. Определите размер файла (в Кбайт), который можно передать за то же время через другое соединение со скоростью 512 бит в секунду.

В ответе укажите одно число – размер файла. Единицы измерения писать не нужно.

Ответ: _____.

16 Автомат получает на вход пятизначное десятичное число. По полученному числу строится новое десятичное число по следующим правилам.

1. Вычисляются два числа – сумма первых трёх цифр и сумма последних трёх цифр.

2. Полученные два числа записываются друг за другом в порядке невозрастания (без разделителей).

Пример. Исходное число: 15177. Поразрядные суммы: 7, 15. Результат: 157.

Определите, сколько из приведённых ниже чисел могут получиться в результате работы автомата.

2828 2512 2518 2524 2425 1825 1225 123

В ответе запишите только количество чисел.

Ответ: _____.

17 Доступ к файлу **net.com**, находящемуся на сервере **www.ru**, осуществляется по протоколу **http**. Фрагменты адреса файла закодированы буквами от А до Ж. Запишите последовательность этих букв, кодирующую адрес указанного файла в сети Интернет.

А) .com

Б) /

В) http

Г) .ru

Д) ://

Е) net

Ж) www

Ответ:

--	--	--	--	--	--	--	--

18 В таблице приведены запросы к поисковому серверу. Для каждого запроса указан его код – соответствующая буква от А до Г. Расположите коды запросов слева направо в порядке **убывания** количества страниц, которые нашёл поисковый сервер по каждому запросу. По всем запросам было найдено разное количество страниц.

Для обозначения логической операции «ИЛИ» в запросе используется символ «|», а для логической операции «И» – «&».

Код	Запрос
А	Солнце Воздух Вода
Б	Солнце & Воздух
В	Солнце & Воздух & Вода
Г	Солнце Воздух

Ответ: _____.

Часть 2

Задания этой части (19, 20) выполняются на компьютере. Результатом выполнения задания является отдельный файл (для одного задания – один файл). Формат файла, его имя и каталог для сохранения Вам сообщат организаторы работы.

19 В электронную таблицу занесли численность населения городов разных стран. Ниже приведены первые пять строк таблицы.

	А	В	С
1	Город	Численность населения	Страна
2	Асмун	91,40	Египет
3	Винер-Нойштадт	39,94	Австрия
4	Люлебургаз	100,79	Турция
5	Фёклабрук	11,95	Австрия

В столбце А указано название города; в столбце В – численность населения (тыс. чел.); в столбце С – название страны.

Всего в электронную таблицу были занесены данные по 1000 городам. Порядок записей в таблице произвольный.

Выполните задание.

Откройте файл с данной электронной таблицей (расположение файла Вам сообщат организаторы работы). На основании данных, содержащихся в этой таблице, ответьте на два вопроса.

1. Сколько городов, представленных в таблице, имеют численность населения менее 100 тыс. человек? Ответ запишите в ячейку F2.

2. Чему равна средняя численность населения австрийских городов, представленных в таблице? Ответ на этот вопрос с точностью не менее двух знаков после запятой (в тыс. чел.) запишите в ячейку F3 таблицы.

Полученную таблицу необходимо сохранить под именем, указанным организаторами работы.

Выберите ОДНО из предложенных ниже заданий: 20.1 или 20.2.

20.1 Исполнитель Робот умеет перемещаться по лабиринту, начерченному на плоскости, разбитой на клетки. Между соседними (по сторонам) клетками может стоять стена, через которую Робот пройти не может. У Робота есть девять команд. Четыре команды – это команды-приказы:

вверх вниз влево вправо

При выполнении любой из этих команд Робот перемещается на одну клетку соответственно: вверх ↑, вниз ↓, влево ←, вправо →. Если Робот получит команду передвижения сквозь стену, то он разрушится.

Также у Робота есть команда **закрасить**, при которой закрашивается клетка, в которой Робот находится в настоящий момент.

Ещё четыре команды – это команды проверки условий. Эти команды проверяют, свободен ли путь для Робота в каждом из четырёх возможных направлений:

сверху свободно снизу свободно слева свободно справа свободно

Эти команды можно использовать вместе с условием «если», имеющим следующий вид:

если условие то

последовательность команд

все

Здесь *условие* – одна из команд проверки условия.

Последовательность команд – это одна или несколько любых команд-приказов.

Например, для передвижения на одну клетку вправо, если справа нет стенки и закрашивания клетки, можно использовать такой алгоритм:

если справа свободно то

вправо

закрасить

все

В одном условии можно использовать несколько команд проверки условий, применяя логические связки **и**, **или**, **не**, например:

**если (справа свободно) и (не снизу свободно) то
вправо**

все

Для повторения последовательности команд можно использовать цикл «**пока**», имеющий следующий вид:

нц пока *условие*

последовательность команд

кц

Например, для движения вправо, пока это возможно, можно использовать следующий алгоритм:

нц пока справа свободно

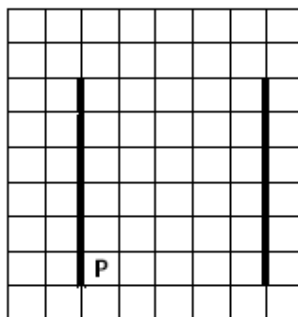
вправо

кц

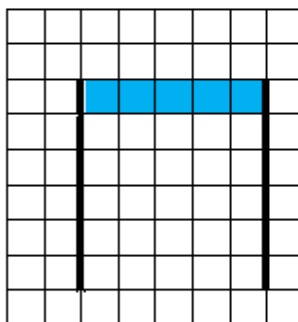
Выполните задание.

На бесконечном поле имеются две вертикальные стены одинаковой длины, расположенные точно одна напротив другой. **Длина стен неизвестна. Расстояние между стенами неизвестно.** Робот находится справа от первой стены в клетке, расположенной у её нижнего края.

На рисунке указан один из возможных способов расположения стен и Робота (Робот обозначен буквой «Р»):



Напишите для Робота алгоритм, закрашивающий все клетки самого верхнего ряда, расположенные между стенами. Робот должен закрасить только клетки, удовлетворяющие данному условию. Например, для приведённого выше рисунка Робот должен закрасить следующие клетки (см. рисунок):



Конечное расположение Робота может быть произвольным. Алгоритм должен решать задачу для произвольного размера поля и любого допустимого расположения стен внутри прямоугольного поля. При исполнении алгоритма Робот не должен разрушиться.

Алгоритм может быть выполнен в среде формального исполнителя или записан в текстовом редакторе.

Название файла и каталог для сохранения Вам сообщат организаторы работы.

20.2 Напишите программу, которая в последовательности натуральных чисел находит среднее арифметическое трёхзначных чисел или сообщает, что таких чисел нет (выводит NO). Программа получает на вход натуральные числа, количество введённых чисел неизвестно, последовательность чисел заканчивается числом 0 (0 – признак окончания ввода, не входит в последовательность).

Количество чисел не превышает 100. Введённые числа не превышают 300.

Программа должна вывести среднее арифметическое трёхзначных чисел или вывести «NO», если таких чисел нет.

Пример работы программы:

Входные данные	Выходные данные
10 120 125 0	122.5
11 1 0	NO